

2 Grado



Ciclo Escolar 2021 - 2022

EXAMEN TRIMESTRAL BLOQUE 1

Nombre del Alumno:

Grado: Grupo: Fecha:

Nombre de la Escuela:

MATERIA	REACTIVOS	ACIERTOS	CALIFICACIÓN
Matemáticas	34		
Español	33		
Conocimiento del Medio	26		
Vida Saludable	10		

Firma del padre o tutor: _____

Observa la imagen y contesta las preguntas: En cada bolsa hay 10 chicles.



1.- ¿Cuántos chicles tiene María?

2.- Si regala una bolsa: ¿Cuántos chicles le quedarían?

Cuenta el dinero de los niños y contesta:



3.- ¿Cuánto dinero tiene Juan?

\$ pesos

4.- ¿Cuánto dinero tiene María?

\$ pesos

5 al 8.- Encierra con color **rojo** la actividad que dura más tiempo y con **azul** la que dura menos tiempo.




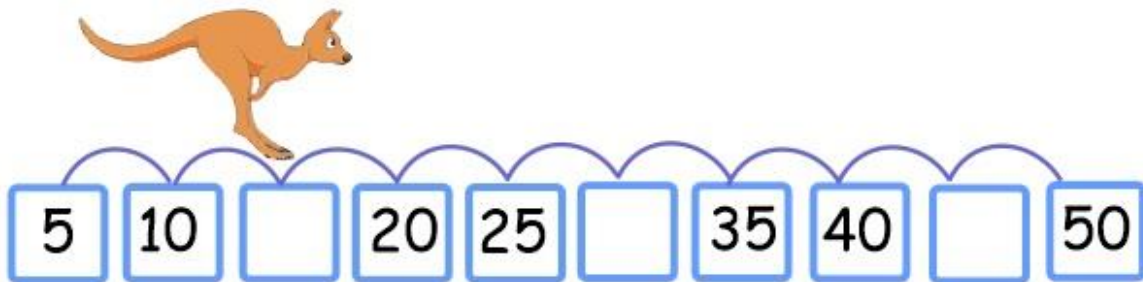
Observa la imagen y contesta las preguntas:



9.- ¿Cuánto tienes que pagar por dos hamburguesas, un helado y un vaso de agua de limón?

10.- Si pagas con 100 pesos por dos rebanadas de pizza, una hamburguesa y un helado. ¿Cuánto te tienen que dar de cambio?


11 al 16.- Anota los números que faltan.



17 al 19.- Calcula cuántas piezas hay en cada caso.



Si hay 5 cajas iguales,
¿Cuántos melones hay
en total?




Si hay 3 charolas iguales,
¿Cuántas galletas hay en
total?




Si hay 7 racimos iguales,
¿Cuántos platanos hay
en total?

20 al 23.- Anota el número de galletas que hay en cada charola, cuenta también las que están debajo de la hoja.











24 y 25.- Dibuja dos figuras geométricas con las siguientes características.




Una figura de 3 lados iguales.



Una figura de 4 lados rectos.
2 cortos y 2 más largos.

26 al 28- Une con una línea cada figura con las características que le corresponden.



Tengo 4 lados curvos.

Tengo 6 lados, todos son diferentes.

Tengo 4 lados diferentes.

29 y 30.- Resuelve las operaciones.

$$25 + 10 + 10 = \boxed{}$$

$$65 + 10 + 10 = \boxed{}$$

$$9 + 10 + 1 = \boxed{}$$

$$44 + 10 + 10 = \boxed{}$$

31 y 32.- Anota lo que le falta a cada número para llegar a 100.

$$\boxed{10} + \boxed{} = \boxed{100}$$

$$\boxed{75} + \boxed{} = \boxed{100}$$

$$\boxed{40} + \boxed{} = \boxed{100}$$

$$\boxed{90} + \boxed{} = \boxed{100}$$

33 y 34.- Completa las características de las cajas anotando cada palabra en el lugar que le corresponde.

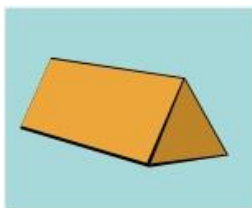
cinco

cuadrado

triángulo

seis

rectángulo



Esta caja tiene _____ caras planas. **Tres** de sus caras tienen forma de _____ y dos de sus caras tienen forma de _____.



Esta caja tiene _____ caras planas. Todas sus caras tienen forma de _____.

1 al 4.- Realiza lo que se te indica.

Escribe tu nombre:

Escribe tres nombres que inicien con la misma letra que el tuyo.



5 al 10.- Completa los versos con las palabras que riman.

A las tres de la mañana
 empecé a escuchar un _____
 andaba muy ocupado
 afilando su _____.

partido

cuchillo

Naranja dulce,
 limón _____
 dame un abrazo
 que yo te _____.

avión

vido




algodón

Anita la araña
 viajaba en _____
 usando un vestido
 de puro _____.

grillo

11 y 12.- Escribe dos reglas de la biblioteca de tu salón.

13.- Remarca de color rojo el libro que más te sirve para investigar acerca de: **Los leones.**



14 al 16.- Marca con una el nombre correcto de los dibujos.

freza 

fresa

jitomate 

gitomate

uvas 

huvas

17 al 20.- Marca con una los datos que deben incluir los anuncios para ofrecer productos o servicios.

- Nombre de la persona.
- Producto o servicio que ofrece.
- Lugar de nacimiento.

- Horario.
- Dirección o teléfono para localizarlo.
- Nivel de estudios

21 al 24.- Escribe la frase correcta en el dibujo correspondiente.





¡No quiero jugar futbol!

¡No! Quiero jugar futbol





Luis, Miguel, Ana, Lilia

Luis Miguel, Ana Lilia

25 y 26.- Transforma la copla con las frases que **riman**.

Copla tradicional

*Copla **modificada***

Ayer pasé por tu casa
Y me **tiraste una flor...**
La próxima vez que pase
¡Sin maceta por favor!

Ayer pasé por tu casa
Y me _____
La próxima vez que pase

diste un manazo

tiraste un durazno

¡Mejor dame un abrazo!

¡Sin hueso por favor!

27.- Escoge la frase que complete mejor la oración.

Ayer hizo mucho frio porque estaba _____.

yo viendo

lloviendo

Lee con atención el siguiente texto.

Recomendación

Una mamá Pata tiene varios patitos, pero uno de ellos es mucho más feo, tonto y torpe que el resto, por lo que todos los animales de la granja se burlan de él. El patito decide huir de allí y se enfrenta sólo a un mundo desconocido y lleno de peligros. Es un cuento muy interesante porque está inspirado en la propia vida del autor, además el final de la historia ¡es emocionante!. Si quieren saber qué pasó con el pobre patito los invito a que lean el libro “El patito feo” de Hans Christian Andersen, disponible en la biblioteca de la escuela.



Marca con una palomita la respuesta correcta.

28.- ¿De qué trata la historia del libro?

- De un Patito millonario que se fue a pasear por el mundo.
- De un patito muy feo y los demás animales se burlan de él.

29.- ¿Qué frase invita a leer el libro?

- Si quieres saber qué pasó con el pobre patito los invito a que lean el libro “El patito feo”.
- El patito decide huir de allí y se enfrenta sólo a un mundo desconocido.


30.- ¿Por qué es interesante el libro?

- Porque el autor siempre escribe cuentos interesantes.
- Porque está inspirado en la vida del autor y su final es emocionante.

31 al 33.- Completa la información.

El título del libro es:
El autor es:
Está disponible en:

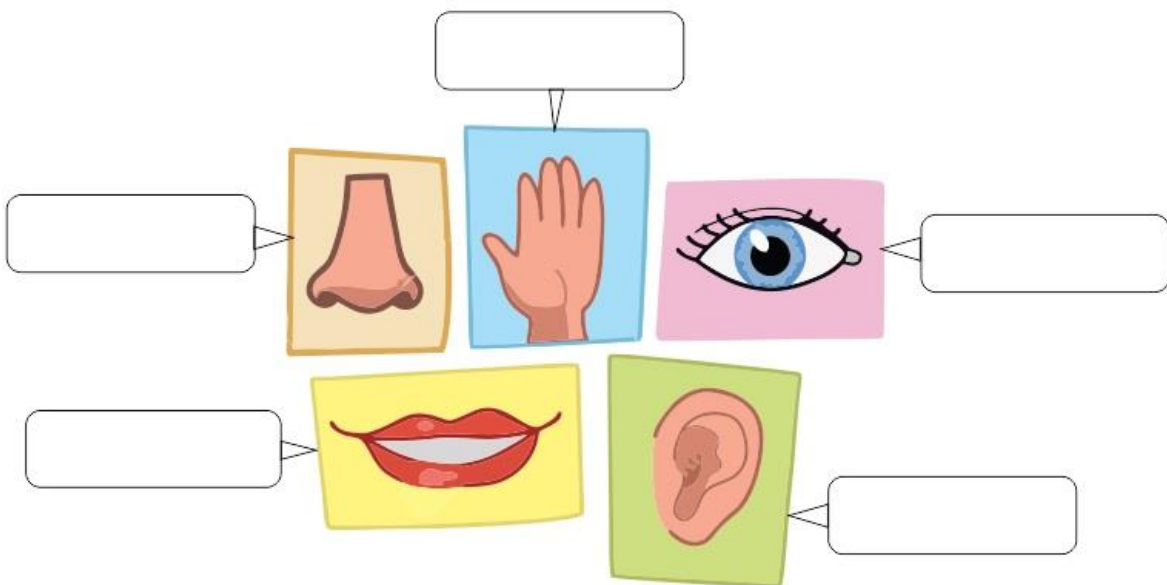
1.- Haz un dibujo de ti mismo



2.- Describe cómo eres físicamente.

3.- Escribe un cambio físico que has notado en tu cuerpo desde que eras un bebe hasta ahora, por ejemplo, en tus manos, pies, estatura, dientes o peso.

4 al 8.- Escribe en el recuadro que le corresponde el nombre de los sentidos: **Oído, vista, gusto, olfato y tacto.**



9 al 11.- Observa las imágenes y escribe en cada recuadro que **crees** que está conmemorando el niño.



12 al 17.- Clasifica los animales correctamente, escribe la palabra que corresponde.

acuáticos


terrestres

voladores

chicos

grandes

arrastran



Animales que se



Animales



Animales



Animales



Animales







Animales

18 al 20.- Escribe en cada recuadro el momento del día que corresponde: **mañana**, **tarde** o **noche**.



21 al 23.- Marca con una los animales nocturnos.

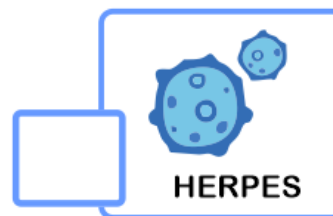




24 al 26.- Algunas actividades que realizas diariamente tienen que ver con tus derechos. Escribe el derecho que corresponde a las actividades de cada imagen.



Marca con una la respuesta correcta.

1.- ¿Qué enfermedad respiratoria es causada por el **coronavirus SARS-Cov-2**?



2 y 3.- ¿Qué estrategias se han implementado para combatir el **Covid-19**?



4 al 6.- Son acciones útiles para prevenir el **Covid-19**



Marca con una la respuesta correcta.

7 al 9.- Son algunos síntomas que puede causar la enfermedad de **Covid-19**



Tos seca



Fiebre



Sobrepeso



Calor

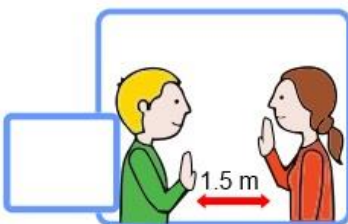


Dolor de garganta



Frío

10.- Es un ejemplo de **sana distancia**.



CicloEscolar.mx ® 2021-2022

Este examen fue elaborado exclusivamente para www.cicloescolar.mx.



Examen Trimestral Bloque 1 Segundo grado Ciclo escolar 2019-2020

Elaborado por <https://www.cicloescolar.mx>.

Se distribuye bajo una [Licencia Creative Commons Atribución-NoComercial-SinDerivadas 4.0 Internacional](https://creativecommons.org/licenses/by-nc-nd/4.0/).

Visita: <https://www.cicloescolar.mx>

Este examen fue elaborado exclusivamente para www.cicloescolar.mx.

Si utilizas estos materiales en tu página web deberás atribuir autoría a [cicloescolar.mx](http://www.cicloescolar.mx)

E incluir un código en el post o entrada donde compartes los materiales de [cicloescolar.mx](http://www.cicloescolar.mx)

```
<a href="https://www.cicloescolar.mx/2021/08/examenes-de-primaria-2021-2022.html" >Exámenes de Primaria 2021-2022 por CicloEscolar.mx</a>
```